



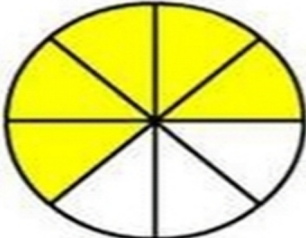
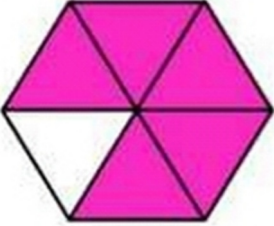

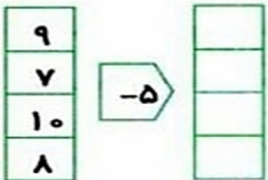
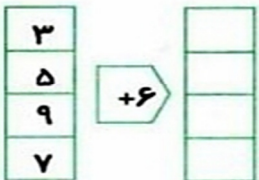


به نام خدا

امتحان ریاضی فصل ۷ و ۸ کلاس دوم دبستان پسرانه سرای دانشی

نام و نام خانوادگی

 <p>..... دسته ی تایی</p>	<p>با توجه به شکل کامل کنید.</p>  <p>..... دسته ی تایی</p>	<p>۱</p>	
<p>جاهای خالی را با اعداد مناسب پر کنید.</p> <p>عدد ۳۵ را می توان به صورت ده تایی و قسمت از ۱۰ قسمت بیان کرد.</p> <p>عدد ۵۹ را می توان به صورت ده تایی و قسمت از ۱۰ قسمت بیان کرد.</p> <p>عدد را می توان به صورت ۴ ده تایی و ۶ قسمت از ۱۰ قسمت بیان کرد.</p> <p>عدد را می توان به صورت ۸ ده تایی و ۱ قسمت از ۱۰ قسمت بیان کرد.</p>			<p>۲</p>
 	<p>عبارت مربوط به شکل را بنویسید.</p> <p>..... دسته ی تایی می شود.....</p>	<p>۳</p>	
<p>کسر مربوط به هر تصویر را بنویسید.</p>			<p>۴</p>
 <p>رنگ شده رنگ نشده</p>	 <p>رنگ شده رنگ نشده</p>	 <p>رنگ شده رنگ نشده</p>	
<p>جاهای خالی را با عدد مناسب پر کنید.</p>			<p>۵</p>
			

ساعت چند است ؟
 اگر عقربه ی بزرگ ۱۵ دقیقه حرکت کند ، مقدار چرخش عقربه بزرگ را با رنگ کردن نشان دهید.



۶

یک صفحه ی چرخنده مثل شکل زیر رنگ شده است .
 الف) قسمت از قسمت شکل صورتی است.
 ب) احتمال ایستادن عقربه روی کدام رنگ کمتر است ؟ چرا ؟



۷

کتاب هایی که ریحانه در یک سال تحصیلی خوانده است در جدول زیر آمده است. با توجه به داده ها و اطلاعات جدول ، نمودار مربوط به آن را تکمیل کرده و به سوالات پاسخ دهید.

نوع کتاب	علمی	دفاع مقدس	داستان	کمک درسی
تعداد	۹	۲	۷	۴



الف : ریحانه بیش تر چه نوع کتابی را خوانده است ؟
 از کجا می دانید؟
 ب : ریحانه کدام نوع از کتاب هارا کم تر مطالعه کرده است؟
 از کجای دانید؟

۸

باز خورد معلّم: خیلی خوب ○ خوب ○ قابل قبول ○ نیاز به تلاش بیشتر ○

موفق و پیروز باشید